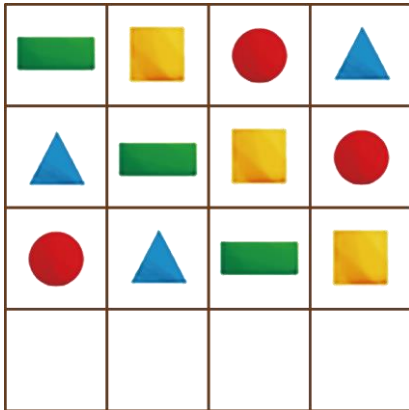




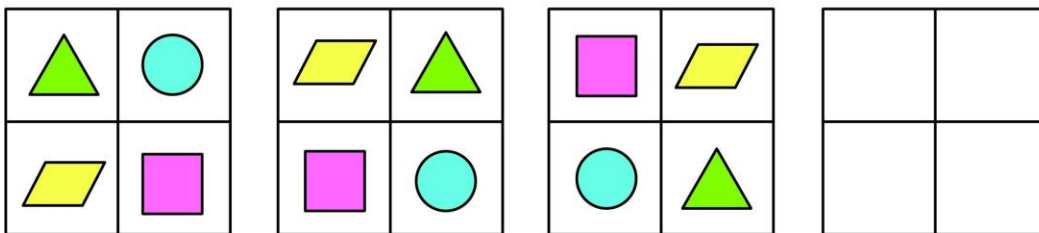
4. 按规律把空缺的部分补充完整。



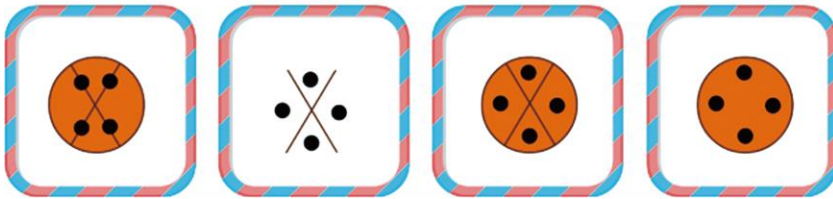
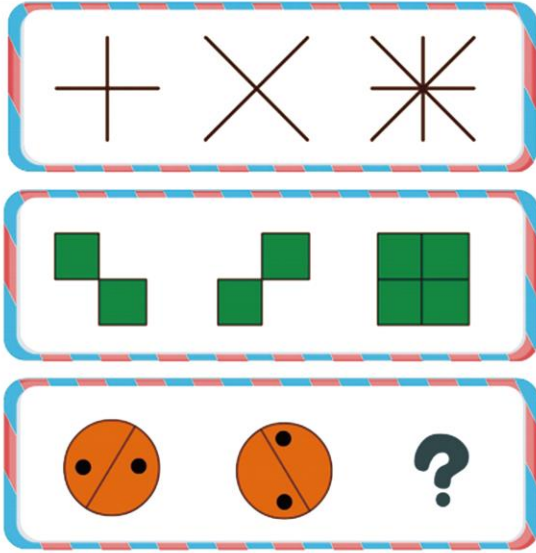
5. 按规律画出空白处的图形。



6. 根据下图中前面三幅图的变化规律, 画出第四幅图。



7. 找规律, 请你选出问号处的图形!



A

B

C

D

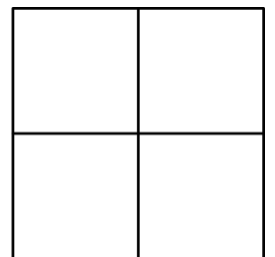
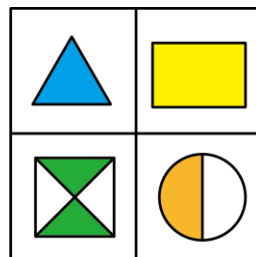

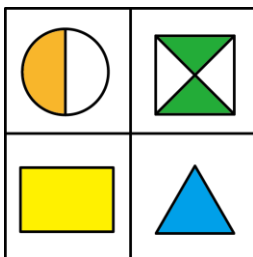
A. A

B. B

C. C

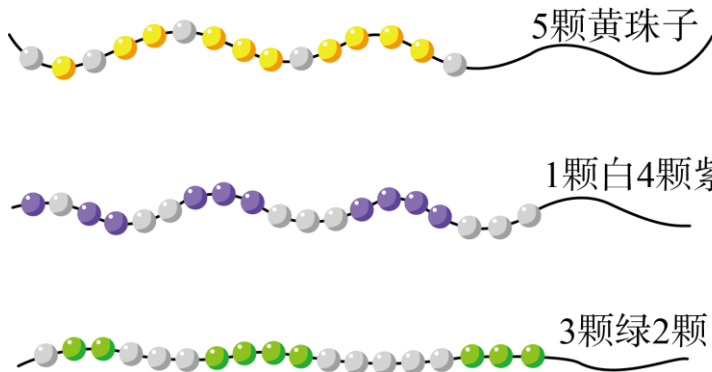
D. D

8.按照变化规律在空白处画上合适的图形。



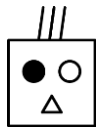
参考答案

1. 【答案】



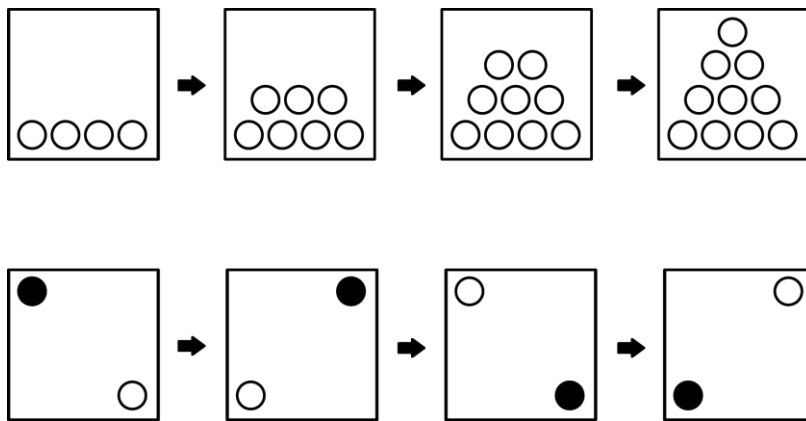
【解析】图形数量的变化规律。

2. 【答案】



【解析】图形的平移规律且头发数量每组都会出现1，2，3这几种情况。

3. 【答案】



【解析】第一行最后一个增加了1个圆；第二行是顺时针旋转。

4. 【答案】



【解析】平移的规律，朝右平移。

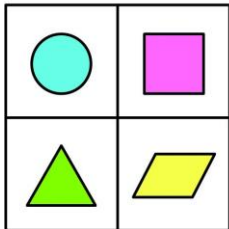
5. 【答案】



【解析】逆时针旋转。

6. 【答案】见解析

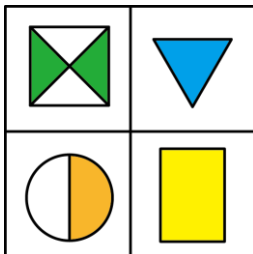
【解析】解：图中的四个图形都是按顺时针旋转的,答案如下图:



7. 【答案】C

【解析】每一组左边的两个图形合起来就是右边的图形。

8. 【答案】答案如下:



【解析】每一个格子里的图形按照顺时针规律向右旋转，这是公转。每一个图形自身也按照顺时针的规律旋转，这是自转。